

6. b kategorija  
6. b kategorija

grupa A



Drniš, 26. i 27. travnja 2025

Ime i prezime: \_\_\_\_\_

1. a) Prepoznaaj i napiši kojim tonalitetima pripadaju zadani predznaci (dur i paralelni mol): 8 bodova



\_\_\_\_\_

b) Napiši predznake zadanih tonaliteta: 8 bodova




g mol

As dur

cis mol

H dur

2. a) Prepoznaaj i odredi veličinu i vrstu zadanih intervala: 10 bodova



\_\_\_\_\_

b) Izgradi zadane intervale u smjeru strelice: 8 bodova



p.4↑

s.5↓

v.6↓

m.7↑

## 6. b kategorija

3. a) Prepoznavaj i napiši vrstu kvintakorda ili obrata:

10 bodova



\_\_\_\_\_

b) Izgradi zadane akorde uzlazno (naviše):

8 bodova



$P_4^6$

$S_4^6$

$P_3^6$

$D_3^6$

4. a) Prepoznavaj i napiši vrstu zadanih tetrakorda:


9 bodova



\_\_\_\_\_

b) Izgradi zadane tetrakorde uzlazno:

9 bodova



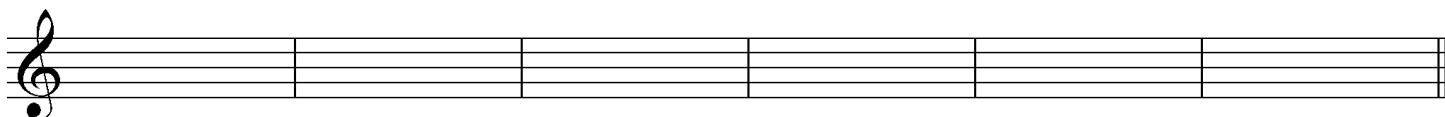
durski

frigijski

molski

5. U zadanom tonalitetu izgradi D7 ili njegov obrat:

18 bodova



H:  $D_3^4$

c:  $D_5^6$

F:  $D^7$

a:  $D^2$

E:  $D_5^6$

g:  $D_3^4$

## 6. b kategorija

6. U zadanom primjeru (gornje crtovlje) pronađi i zaokruži ritamske pogreške,

a zatim ih napiši ispravno u donje crtovlje :

12 bodova



\_\_\_\_od ukupno 100 bodova

Članovi ocjenjivačkog suda:

1. \_\_\_\_\_

2. \_\_\_\_\_

3. \_\_\_\_\_